

**ŠKOLSKO/OPĆINSKO NATJECANJE UČENIKA IZ GEOGRAFIJE 2009. GODINE
6. RAZRED**

Zaporka _____ Bodovi _____

- 3** 1. Izračunaj koliko stanovnika živi na površini od jednog četvornog kilometra (1 km²):

broj stanovnika = 3 760 000

površina = 80 000 km²

Prostor za računanje

Na površini od jednog četvornog kilometra živi _____ stanovnika.

- 2** 2. Izračunaj prirodnu promjenu broja stanovnika Narodne Republike Kine za 2008. godinu ako stopa rodnosti iznosi 14 promila, a stopa smrtnosti 7 promila.

Prostor za računanje

Prirodna promjena broja stanovnika Kine iznosi _____ promila.

- 2** 3. Od četiri **područja** najveće i najgušće naseljenosti na Zemlji samo dva imaju više od milijardu stanovnika. To su: _____ i _____.

- 3** 4. Mješanac crne i bijele rase je _____.
Mješanac žute i crne rase je _____.
Mješanac bijele i žute rase je _____.

- 3** 5. **Ovaj zadatak riješi uz pomoć priloženog crteža desno!**

Kontinent označen znakom «X» zove se _____.

Na njemu prevladava _____ rasa, a od svjetskih jezika (jezika međunarodnog sporazumijevanja) najzastupljeniji su _____ i _____ jezik.



- 3** 6. Uz objašnjenje upiši odgovarajuću **kraticu međunarodne organizacije!**

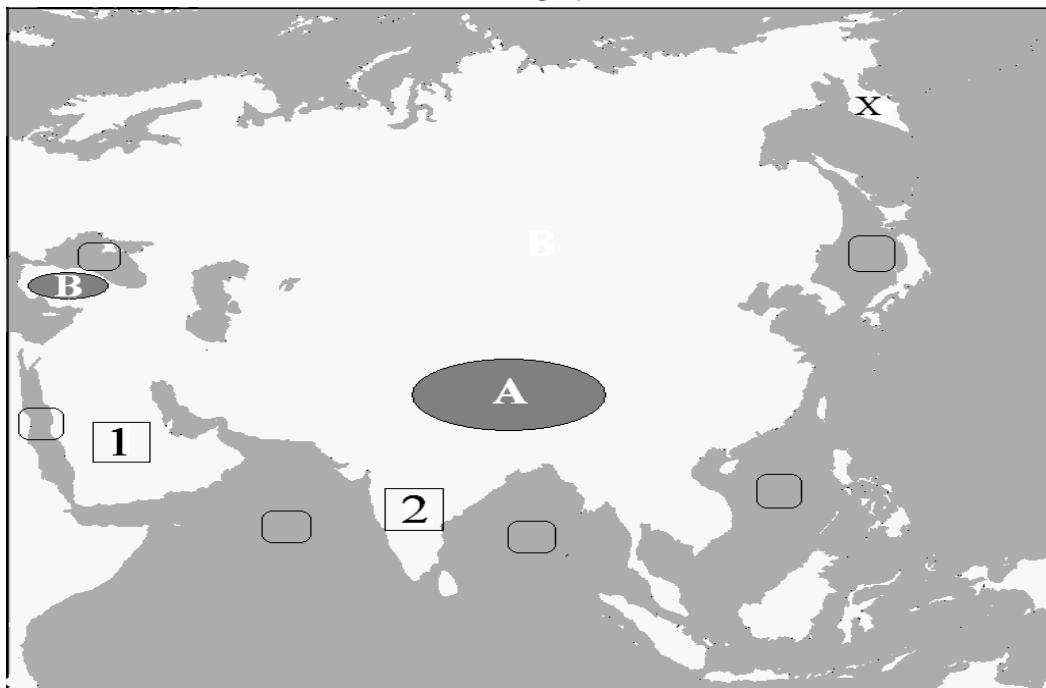
- Organizacija koja se brine o potrebama djece u svijetu - _____
- Vojnopolitički savez europskih i sjevernoameričkih zemalja - _____
- Organizacija za prehranu i poljoprivredu - _____

- 2** 7. Aziju i Sjevernu Ameriku razdvaja _____ prolaz .

3 8. Zaokruži slova uz azijske **planinske lance (mlade nabrane planine)**:

- a) Kavkaz b) Karakum c) Altaj d) Pamir e) Karakorum

SLJEDEĆA ČETIRI ZADATKA RIJEŠI UZ POMOĆ PRILOŽENE GEOGRAFSKE KARTE AZIJE!



2 9. Slova na karti označavaju **azijske visoravni**:

A - _____

B - _____

2 10. Brojevi na karti označavaju **prastare dijelove Azije**:

1 - _____

2 - _____

2 11. Znakom «X» označen je jedan **azijski poluotok**. Njegov naziv je:

3 12. U pravokutnike na karti upišite brojeve za **rubna mora Azije** (tri pravokutnika su višak):

1 – Arapsko more

2 – Južno kinesko more

3 – Crveno more

U SLJEDEĆA TRI ZADATKA DOPUNI REČENICE!

2 13. Azija je smještena na sve četiri polutke, a najvećim dijelom svoje površine smještena je na _____ i _____ polutki.

2 14. Znanost o potresima zove se _____, a uređaj koji mjeri jačinu potresa zove se _____.

2 15. Jedina azijska država članica skupine G 7 je _____.

U SLJEDEĆA TRI ZADATKA POVEŽI DESNI STUPAC S LIJEVIM UPISIVANJEM SLOVA NA CRTU ISPRED POJMOVA U LIJEVOM STUPCU. JEDNO SLOVO JE VIŠAK!

2 16. **Gospodarskim djelatnostima pridruži odgovarajući sektor:**

- | | |
|---------------|-----------------------|
| ___ kultura | A – sekundarni sektor |
| ___ trgovina | B – kvartarni sektor |
| ___ šumarstvo | C – primarni sektor |
| | D – tercijarni sektor |

2 17. **Azijskim poluotocima pridruži prevladavajući tip klime:**

- | | |
|--------------------------|--------------------------|
| ___ Indokineski poluotok | A – pustinjska klima |
| ___ Mala Azija | B – umjereno topla klima |
| ___ Arapski poluotok | C – savanska klima |
| | D – sredozemna klima |

2 18. **Vjerama (religijama) pridruži vjersko središte:**

- | | |
|----------------|------------------------|
| ___ Budizam | A – Jeruzalem |
| ___ Hinduizam | B – Mandalay |
| ___ Kršćanstvo | C – Meka |
| | D – Varanasi (Benares) |

3 19. Ispuni tablicu nazivima **azijskih rijeka i nizina** koje su nastale taloženjem nanosa tih rijeka!

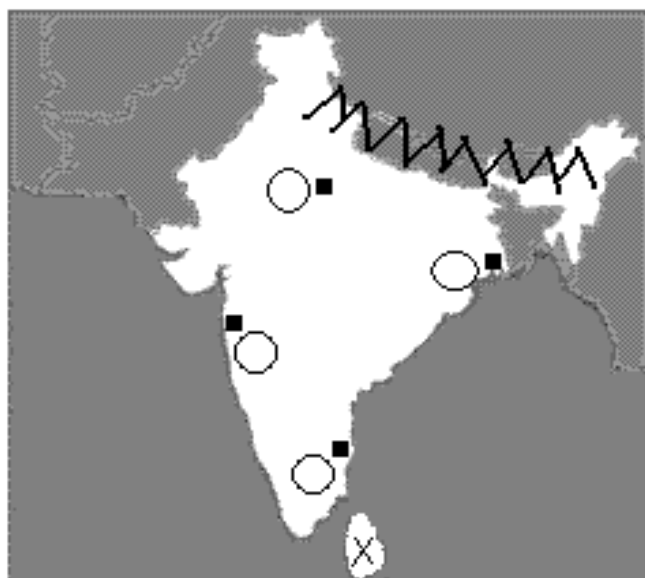
NIZINA	RIJEKA
HINDUSTAN	
	EUFRAT, TIGRIS
ASAM	

SLJEDEĆA TRI ZADATKA RIJEŠI UZ POMOĆ PRILOŽENE GEOGRAFSKE KARTE JUŽNE AZIJE!

3 20. U odgovarajuće kružice na priloženoj karti upiši brojeve za sljedeće **indijske gradove** (jedan kružić je višak):


1. **Mumbai (Bombay)**
2. **Kolkata (Calcutta)**
3. **Chennai (Madras)**

2 21. Znakom «X» označen je **otok** _____ .



2 22. Znakom «» označen je **planinski lanac** _____ .

- 3** 23. Na slikama su prikazani značajni **kulturno-povijesni spomenici Azije**. Na **gornju crtu** ispod slika napišite njihova imena, a na **donju crtu** ime države u kojoj se nalaze!



U SLJEDEĆA ČETIRI ZADATKA DOPUNI REČENICE.

- 2** 24. Biljna zajednica mahovina i lišajeva zove se _____ .
- 2** 25. Jedna od vodećih azijskih i svjetskih morskih luka nalazi se na jugu Malajskog poluotoka uz Malajski prolaz . Njezino ime je _____ .
- 2** 26. Morski val nastao kao posljedica potresa u podmorju zove se _____ .
- 3** 27. Dva područja s najvećim zalihama nafte u svijetu su _____ jezero i _____ zaljev. Država koja je najveći proizvođač nafte u svijetu je _____ .

U SLJEDEĆA TRI ZADATKA SAMO JE JEDAN TOČAN ODGOVOR. ZAOKRUŽI SLOVO UZ TOČAN ODGOVOR.

- 2** 28. Vjera (religija) koja je najzastupljenija u jugozapadnoj Aziji i sjevernoj Africi je:
- a) *budizam*
 - b) *hinduizam*
 - c) *islam*
 - d) *kršćanstvo*
- 2** 29. Koji se hrvatski kulturno-povijesni spomenik **ne nalazi** na listi svjetske baštine pod zaštitom UNESCO-a:
- a) *Eufrazijeva bazilika u Poreču*
 - b) *Arena u Puli*
 - c) *Katedrala Sv. Jakova u Šibeniku*
 - d) *Dioklecijanova palača u Splitu*
- 2** 30. Površinom najveći, najmnogoljudniji i gospodarski najrazvijeniji japanski otok je:
- a) *Shikoku (Šikoku)*
 - b) *Honshu (Honšu)*
 - c) *Hokkaido (Hokaido)*
 - d) *Kyushu (Kjušu)*